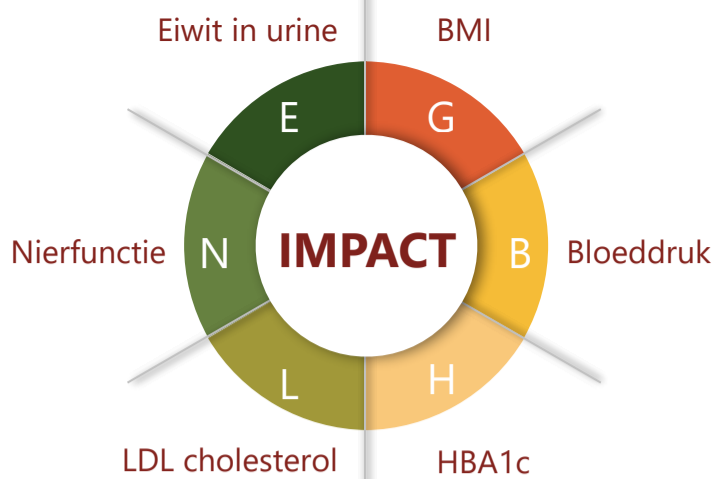
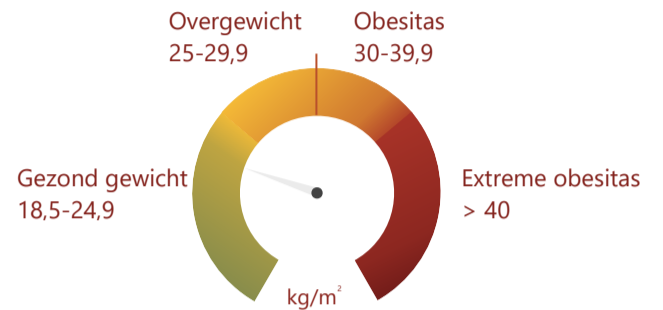


Praatplaat Diabetes Mellitus type 2 Mensen tussen 40 - 70 jaar


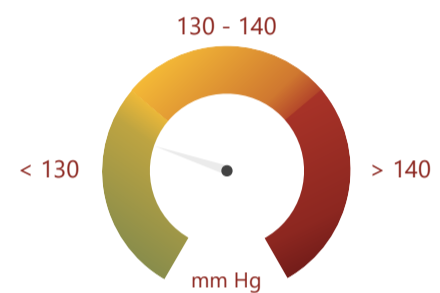
In welke gebieden zit u in het rode vlak?
We bespreken of u hier wat aan kan doen.



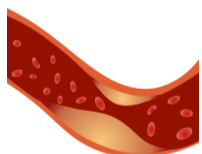
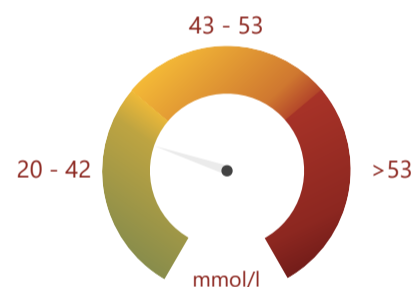
BMI
De verhouding tussen uw gewicht en lengte



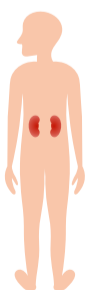
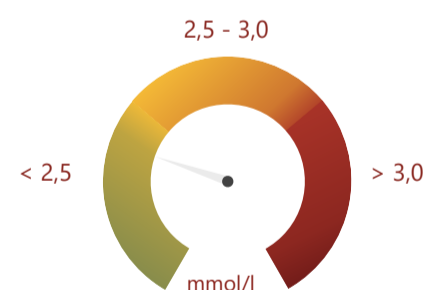
Bloeddruk
De hoogte van uw bovendruk



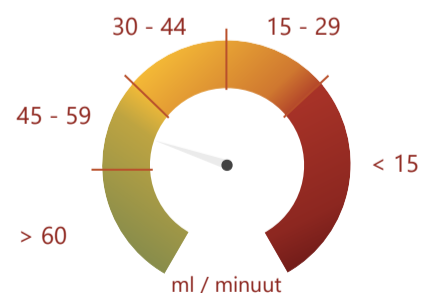
HBA1c
Hoogte van de glucosewaarde in uw bloed
Gemeten over de laatste 6 - 8 weken



LDL cholesterol
LDL is het slechte cholesterol
Hoe lager dit is, hoe beter



eGFR : Nierfunctie
Hoeveel milliliter bloed de nieren per
minuut kunnen zuiveren



ACR: albuminurie stadia: eiwitten in urine
Als er eiwitten in de urine zit, kan dat een
teken zijn van schade aan de nieren

